

Ioan Mărculeț, Mircea Furdui, Raluca-Maria Anghel

GEOGRAFIE

Teste rezolvate pentru reușita
la Bacalaureat



R&S

RENTROP & STRATON

Portal
ÎNVĂȚĂMÂNT

www.portalinvatamant.ro

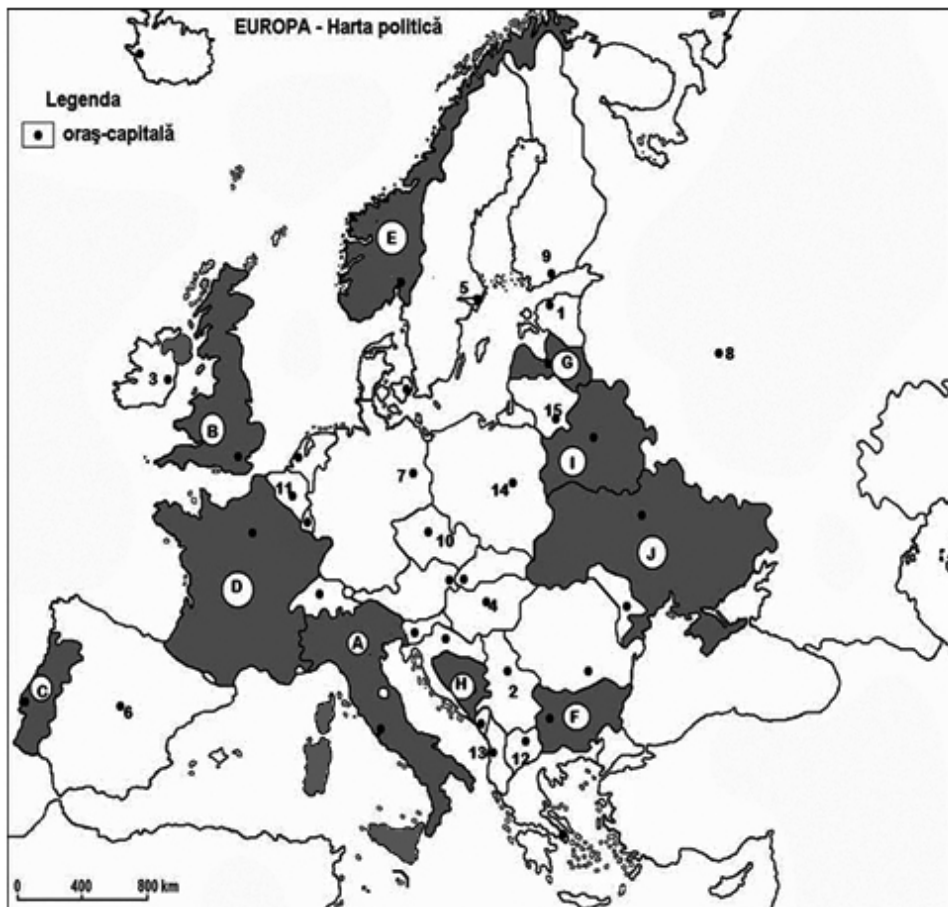
Teste

- **Toate subiectele sunt obligatorii. Se acordă zece puncte din oficiu.**
- **Timpul de lucru efectiv este de trei ore.**

Testul nr. 1

SUBIECTUL I

(30 de puncte)



Harta de mai sus se referă la subiectul I, A-E. Pe hartă sunt marcate state cu litere și oraș-capitală cu numere.

A. Precizați:

1. numele statului marcat, pe hartă, cu litera H;
2. numele orașului-capitală marcat, pe hartă, cu numărul 13.

4 puncte

B. Scrieți pe foaia de examen răspunsurile corecte care completează afirmațiile de mai jos:

1. Munții Scandinaviei se află pe teritoriul statului marcat, pe hartă, cu litera...
2. Fluviul Tejo (Tajo) traversează statul marcat, pe hartă, cu litera...

3. Capitala statului marcat, pe hartă, cu litera H se numește...

6 puncte

C. Încercuiți litera corespunzătoare răspunsului corect pentru fiecare dintre afirmațiile de mai jos:

1. Țărmuri cu fiorduri apar în statul marcat, pe hartă, cu litera:

- a. C b. E c. H d. J

2 puncte

2. Orașul-capitală marcat, pe hartă, cu numărul 3 se numește:

- a. Dublin b. Helsinki c. Londra d. Varșovia

2 puncte

3. Munții Alpi sunt localizați în statul marcat, pe hartă, cu litera:

- a. A b. F c. E d. I

2 puncte

4. Climatul temperat-continental este specific statului marcat, pe hartă, cu litera:

- a. C b. D c. E d. J

2 puncte

5. Relieful predominant de câmpie este specific statului marcat, pe hartă, cu litera:

- a. A b. B c. H d. I

2 puncte

D. Precizați trei deosebiri între clima statului marcat, pe hartă, cu litera F și clima statului marcat, pe hartă, cu litera I.

Nota 1: *Deosebirile se pot referi la oricare dintre următoarele elemente climatice: factori genetici, tip de climă, temperaturi medii anuale/vara/iarna, amplitudine termică, precipitații medii anuale/vara/iarna, vânturi cu frecvență ridicată, alte aspecte climatice.*

Nota 2: *Punctajul complet va fi acordat numai dacă deosebirile vor fi prezentate comparativ, și nu separat.*

Nota 3: *Nu este necesară precizarea numelor statelor; se poate face referire la statele respective cu literele cu care sunt marcate pe hartă.*

6 puncte

E. Precizați:

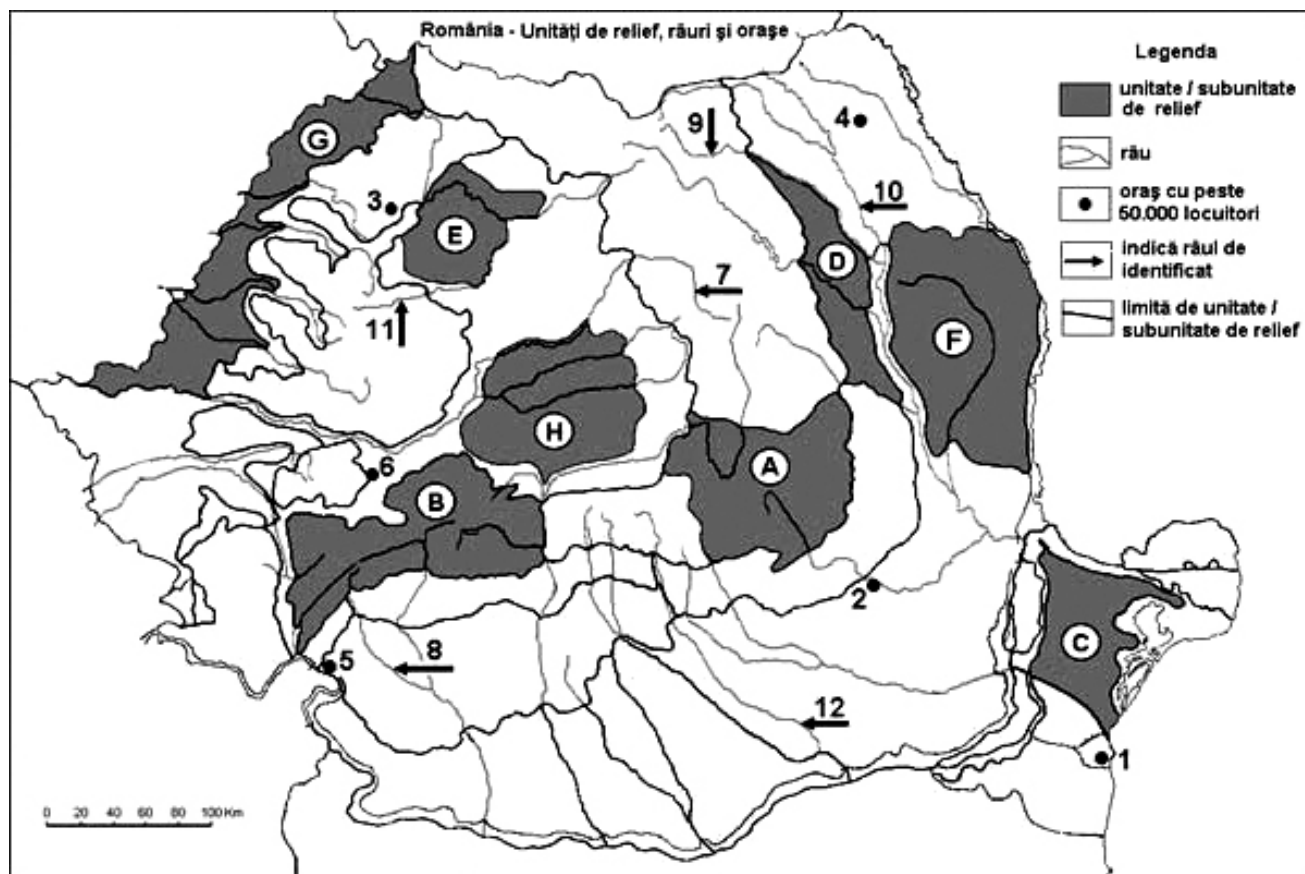
1. două argumente care să demonstreze potențialul hidroenergetic ridicat al râurilor din statul marcat, pe hartă, cu litera E;

2. numele a două state din Peninsula Scandinavă.

4 puncte

SUBIECTUL al II-lea

(30 de puncte)



Harta anterioară se referă la subiectul II, A-E. Pe hartă sunt marcate unități de relief cu litere, orașe cu numere de la 1 la 6 și râuri cu numere de la 7 la 12.

A. Precizați:

1. numele unității de relief marcate, pe hartă, cu litera F;
2. numele orașului marcat, pe hartă, cu numărul 3.

4 puncte

B. Scrieți pe foaia de examen răspunsurile corecte care completează afirmațiile de mai jos:

1. Râul marcat, pe hartă, cu numărul 10 se numește...
2. Orașul marcat, pe hartă, cu numărul 4 este reședința județului...
3. Orașul-port la Dunăre este marcat, pe hartă, cu numărul...

6 puncte

C. Încercuți litera corespunzătoare răspunsului corect pentru fiecare dintre afirmațiile de mai jos:

1. Vegetația de silvostepă este predominantă în unitatea de relief marcată, pe hartă, cu litera:
a. A b. D c. E d. G 2 puncte
2. Domuri gazeifere există în subunitatea de relief marcată, pe hartă, cu litera:
a. C b. D c. F d. H 2 puncte
3. Munții Măcin sunt parte integrantă a subunității de relief marcată, pe hartă, cu litera:
a. C b. E c. F d. G 2 puncte
4. Râul care străbate orașul marcat, pe hartă, cu numărul 2 se numește:
a. Arieș b. Buzău c. Siret d. Someș 2 puncte
5. Subcarpații Moldovei sunt marcați, pe hartă, cu litera:
a. A b. C c. D d. G 2 puncte

D. Precizați trei deosebiri între relieful unității marcate, pe hartă, cu litera **A** și relieful unității marcate, pe hartă, cu litera **B**.

Nota 1: *Deosebirile se pot referi la oricare dintre următoarele aspecte ale reliefului: mod de formare, tipuri de roci pe care s-a format relieful, altitudini, gradul de fragmentare, tipuri genetice de relief, orientarea culmilor și a văilor principale, dispunerea depresiunilor; alte aspecte specifice ale reliefului.*

Nota 2: *Punctajul complet va fi acordat numai dacă cele trei deosebiri vor fi prezentate comparativ, și nu separat.*

Nota 3: *Nu este necesară precizarea numelor unităților de relief; se poate face referire la unitățile de relief respective cu literele cu care sunt marcate pe hartă.* 6 puncte

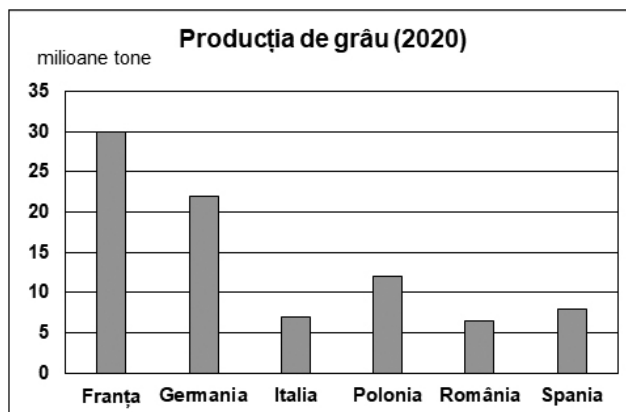
E. 1. Precizați un argument care să evidențieze existența resurselor de apă geotermală în partea estică a unității de relief marcate, pe hartă, cu litera G.

2. Numiți o formă de mobilitate teritorială internă a populației în România. 4 puncte

SUBIECTUL al III-lea

(30 de puncte)

Reprezentarea grafică de mai jos se referă la subiectul III, A și B, și prezintă producțiile de grâu în câteva state din Europa.



A. Scrieți pe foaia de examen:

1. numele statului cu cea mai mare producție de grâu și valoarea acesteia;
2. numele statului cu cea mai mică producție de grâu și valoarea acesteia.

4 puncte

B. 1. Precizați un factor natural care determină producția mare de grâu din Franța.

2. Calculați cu cât este mai mare producția de grâu din Germania față de producția de grâu din Polonia.
3. Precizați o câmpie din Spania care reprezintă o regiune importantă pentru cultivarea cerealelor.

6 puncte

C. Pentru Republica Moldova, precizați:

1. numele a două state vecine;
2. numele a două unități de relief;
3. numele a două cursuri de apă;
4. numele a două zone sau etaje de vegetație;
5. numele a două orașe, cu excepția capitalei.

10 puncte

D. Se dă tabelul de mai jos, referitor la producția de energie nucleară (GWh) din șase state din Europa.

Statul	Bulgaria	Cehia	Finlanda	Franța	Spania	Suedia
GWh	16.623	30.043	23.291	353.833	58.299	49.198

1. Precizați primele două state cu producții ridicate de energie nucleară.
2. Calculați cu cât este mai mare producția de energie nucleară produsă de Cehia față de cea produsă de Bulgaria.
3. Precizați un avantaj oferit de centralele nucleare (atomoelectrice).

6 puncte

E. 1. Precizați două argumente care să demonstreze faptul că Italia dispune de un potențial turistic remarcabil.

2. Precizați două concentrări industriale din Italia.

4 puncte

Bareme și Sugestii de rezolvare

- Se punctează orice modalitate de rezolvare corectă a cerințelor.
- Nu se acordă punctaje intermediare, altele decât cele precizate explicit în test. Nu se acordă fracțiuni de punct.
- Se acordă zece puncte din oficiu. Nota finală se calculează prin împărțirea la zece a punctajului total acordat pentru lucrare.

Testul nr. 1

SUBIECTUL I

(30 de puncte)

A. Se acordă câte 2p pentru fiecare răspuns corect:

1. H – Bosnia și Herțegovina;
2. 13 – Tirana.

Total (1+2) = 4 puncte

B. Se acordă câte 2p pentru fiecare răspuns corect:

1. E;
2. C;
3. Sarajevo.

Total (1+2+3) = 6 puncte

C. Se acordă câte 2p pentru fiecare răspuns corect:

1. b; 2. a; 3. a; 4. d; 5. d.

Total (1+2+3+4+5) = 10 puncte

D. Se acordă câte 2p pentru fiecare deosebire corect formulată între clima statului marcat cu F (Bulgaria) și clima statului marcat cu I (Belarus).

Nota 1: *Deosebirile se pot referi la oricare dintre următoarele elemente de climă: factori genetici, tip de climă, temperaturi medii anuale/vara/iarna, amplitudine termică, precipitații medii anuale/vara/iarna, vânturi cu frecvență ridicată, alte aspecte climatice.*

Nota 2: *Punctajul complet va fi acordat numai dacă deosebirile vor fi prezentate comparativ, și nu separat. Pentru prezentarea separată a celor două state se acordă jumătate de punctaj.*

Nota 3: *Nu este necesară precizarea numelor statelor; se poate face referire la statele respective cu literele cu care sunt marcate pe hartă. Pentru fiecare răspuns parțial corect/incomplet se acordă câte 1p. De exemplu, în situația în care candidatul precizează: „În statul marcat, pe hartă, cu litera I se înregistrează temperaturi mai mici comparativ cu statul marcat, pe hartă, cu litera F, unde temperaturile sunt mai ridicate”, dar nu precizează concret valoarea temperaturilor, se acordă 1p.*

Oricare trei deosebiri:

- Clima în Bulgaria este temperat-continentală și mediteraneeană (subtropicală), în timp ce în Belarus este doar temperat-continentală.
- În Bulgaria, temperaturile medii anuale sunt de 10-14°C, iar în Belarus de 5-7°C.
- În Bulgaria sunt prezente toate tipurile de etaje climatice (de câmpie, de dealuri și podișuri, montan), în timp ce în Belarus sunt prezente doar etajele de câmpie și de dealuri și podișuri joase.
- Numai în Bulgaria suflă brizele marine.

– Pot exista și alte variante sau formulări corecte de răspuns.

Total 6 puncte

E. Se acordă 1p pentru fiecare răspuns corect:

1. – râurile din statul marcat, pe hartă, cu litera E au panta de scurgere ridicată datorită prezenței Munților Scandinaviei;
– râurile au debite mari datorită precipitațiilor abundente determinate de circulația vestică a maselor de aer.
2. Norvegia, Suedia.

– Pot exista și alte variante sau formulări corecte de răspuns.

Total (1+2) = 4 puncte

SUBIECTUL al II-lea

(30 de puncte)

A. Se acordă câte 2p pentru fiecare răspuns corect:

1. F – Podișul Bârladului;
2. 3 – Zalău.

Total (1+2) = 4 puncte

B. Se acordă câte 2p pentru fiecare răspuns corect:

1. Siret;
2. Botoșani;
3. 5.

Total (1+2+3) = 6 puncte

C. Se acordă câte 2p pentru fiecare element solicitat:

1. d; 2. d; 3. a; 4. b; 5. c.

Total (1+2+3+4+5) = 10 puncte

D. Se acordă câte 2p pentru fiecare deosebire corect formulată între relieful unității marcate cu A (Carpații de la Curbură/Grupa Sudică a Carpaților Orientali) și relieful unității marcate cu B (Carpații Meridionali dintre Defileul Oltului și Culoarul Timiș-Cerna/Grupele Parâng și Retezat-Godeanu).

Nota 1: *Deosebirile se pot referi la oricare dintre următoarele aspecte ale reliefului: mod de formare, categorii/tipuri de roci, altitudini, gradul de fragmentare, trepte de relief, tipuri genetice de relief, orientarea culmilor și a văilor principale, dispunerea depresiunilor, alte aspecte specifice ale reliefului.*

Nota 2: *Punctajul complet va fi acordat numai dacă deosebirile vor fi prezentate comparativ, și nu separat. Pentru tratarea separată a celor două unități de relief se acordă jumătate din punctaj.*

Nota 3: *Nu este necesară precizarea numelor unităților de relief. Se poate face referire la unitățile de relief respective cu literele cu care sunt marcate pe hartă. Pentru fiecare răspuns parțial corect/incomplet se acordă câte 1p. În situația în care candidatul precizează, de exemplu: „În unitatea de relief marcată,*

pe hartă, cu litera B se înregistrează altitudini mai mari comparativ cu unitatea de relief marcată, pe hartă, cu litera A, unde altitudinile sunt mai mici”, dar nu precizează concret valoarea altitudinilor, se acordă 1p.

Deosebiri:

- Unitatea marcată cu A (Carpații de la Curbură) este alcătuită, în general, din fliș, în timp ce unitatea marcată cu B (Carpații Meridionali dintre Defileul Oltului și Culoarul Timiș-Cerna) este alcătuită din șisturi cristaline și calcare.
- Unitatea marcată cu A este fragmentată de văi și depresiuni, pe când unitatea marcată cu B este mai puțin fragmentată și masivă.
- În unitatea marcată cu A, altitudinile sunt mai mici de 2.000 m (1.954 m în Vârful Ciucaș), pe când în unitatea marcată cu B depășesc 2.500 m (2.519 m în Vârful Parângu Mare).
- Pot exista și alte variante sau formulări corecte de răspuns.

Total 6 puncte

E. Se acordă câte 2p pentru fiecare răspuns corect (pentru răspuns parțial corect se poate acorda punctaj intermediar: 1p).

1. În unitatea de relief marcată cu litera G, de-a lungul unei falii sunt prezente ape geotermale valorificate în stațiuni balneare (Băile Felix, 1 Mai etc.).
 2. Oricare tip de mobilitate teritorială: dinspre sat spre oraș (rural-urban), deplasare zilnică (navetism) etc.
- Pot exista și alte variante sau formulări corecte de răspuns.

Total (1+2) = 4 puncte

SUBIECTUL al III-lea

(30 de puncte)

A. Se acordă câte 2p pentru fiecare răspuns corect:

1. Franța – 30 milioane tone;
2. România – 6,5 milioane tone.

Total (1+2) = 4 puncte

B. Se acordă câte 2p pentru fiecare răspuns corect:

1. Clima mediteraneeană și temperat-oceanică.
2. 10 milioane tone (22 – 12 = 10 milioane tone).
3. Câmpia Andaluziei sau Câmpia Aragonului.

Total (1+2+3) = 6 puncte

C. Se acordă câte 1p pentru fiecare element:

1. România, Ucraina – 2p;
2. Podișul Moldovei Centrale, Câmpia Moldovei de Sud – 2p;

3. Nistru, Răut – 2p;

4. silvostepă, pădure de foioase – 2p;

5. Tighina, Bălți – 2p.

– *Pot exista și alte variante corecte de răspuns.*

Total (1+2+3+4+5) = 10 puncte

D. Se acordă câte 2p pentru fiecare răspuns corect:

1. Franța, Spania;

2. 13.420 GWh (30.043 – 16.623 = 13.420 GWh);

3. Cantitatea mare de energie electrică produsă de centralele nucleare, comparativ cu celelalte tipuri de centrale electrice.

Total (1+2+3) = 6 puncte

E. Se acordă 2p pentru fiecare argument corect prezentat. Pentru răspuns parțial corect se poate acorda punctaj intermediar (1p).

1. – Italia dispune de potențial turistic natural variat (regiuni litorale la Marea Mediterană, Munții Alpi, Munții Apenini, vulcani activi etc.);

– potențial turistic antropoc (edificii religioase, monumente, galerii de artă, festivaluri etc.) și arta culinară italiană.

2. Milano-Torino, Napoli.

– *Pot exista și alte variante sau formulări corecte de răspuns.*

Total (1+2) = 4 puncte